

华仁中学新生入学编班考试
华文科考题范例

1. 弟弟四处寻觅，仍旧无法找到小狗的踪迹，他的内心焦急不已。
以下哪项画线的字与上面的“觅”字读音相同？
- A. 迷惑
B. 靡然
C. 蜜语
D. 弥漫
2. 姐姐在图书馆看书，享受知识的世界，她的内心充满悦和满足。
以下哪项画线的字与上面的“悦”字读音不同？
- A. 越南
B. 约定
C. 阅读
D. 岁月
3. 李阿姨对我关怀 至，我很是感动。
哪个字填在横线上最合适？
- A. 备
B. 被
C. 倍
D. 背
4. 以下哪个句子没有错别字？
- A. 当孩子们吵架时，父母不该插手盲目袒护自己的孩子。
B. 她承认，解决分歧或是终止漫骂都不是一件容易的事。
C. 西湖道场经过他们的巧手一番布置后，显得美仑美奂。
D. 他一向谈笑风生，怎么今儿个突然变得怪里怪气的呢？
5. 看着高高飘扬的国旗，双打冠军的眼中闪烁着泪光。
上述句子中的斜体词可用哪个近似词语代替？
- A. 飘忽
B. 飘荡
C. 徜徉
D. 腾飞
6. 地震是自然 中对人类 最大的 之一。
试从下列选项中选出最恰当的词汇填进横线里。
- A. 灾害 危害 灾难
B. 灾难 灾害 危害
C. 灾害 灾难 危害
D. 危害 灾害 灾难

7. 他自幼受父母溺爱，_____，从小到大父母对他有求必应，难怪不知人间疾苦。

试从下列选项中选出**正确**的俗谚格言填进横线里。

- A. 守得云开见月明
- B. 尽人事，听天命
- C. 饭来张口，衣来伸手
- D. 没有规矩，不成方圆

8. 做学问应该反复熟读，才能_____，日益精进。

试从下列选项中选出**正确**的俗谚格言填进横线里。

- A. 温故知新
- B. 勤能补拙
- C. 积少成多
- D. 博采众长

9. _____我们用心观察，_____会发现很多新东西。

试从下列选项中选出**正确**的关联词填进横线里。

- A. 除非……还
- B. 纵然……还
- C. 只要……就
- D. 无论……也

10. _____我们共同努力，_____会在比赛中获得胜利。

试从下列选项中选出**正确**的关联词填进横线里。

- A. 一旦……便
- B. 不只……也
- C. 假如……就
- D. 纵然……还

11. 试选出下列句子中，标点符号使用**正确**的一句。

- A. 唉，我的命好苦啊？
- B. 我最喜欢看（三国演义）这部古典小说了。
- C. 我们学校有很多树，有柏树、榕树、桂树、松树等等……
- D. 学三个月的，手艺扎根在眼里；学三年的，手艺扎根在心里。

12. 试选出标点符号使用**正确**的一句。

- A. 语言，人们用来抒情达意，文字，人们用来记言记事。
- B. 语言，人们用来抒情达意；文字，人们用来记言记事。
- C. 语言，人们用来抒情达意！文字，人们用来记言记事！
- D. 语言，人们用来抒情达意。文字，人们用来记言记事。

13. “我那双比铅球还重的眼皮慢慢垂下，再也张不开了。”例句应用了什么修辞手法？

- A. 比喻
- B. 比拟
- C. 引用
- D. 夸张

14. “爷爷轻轻地打了个喷嚏，震得大树也摇动起来。”下列哪项应用的修辞手法与例句的**相**
同？

- A. 快醒醒，快醒醒，你再不醒来就迟到了！
- B. 春天来了，花儿们纷纷起舞，欢迎春天的降临。
- C. 张老师一开始教书，同学们就被迫在他的口水里游泳了。
- D. 清晨，风儿在兴奋地哼着歌儿，唤醒仍在沉睡中的人们

15. 请选出语序**正确**的答案：

- A. 皎洁的月光倒映在湖面上，煞是好看。
- B. 好看月光，在煞是皎洁的湖面上倒映。
- C. 月光在湖面上倒映皎洁的，煞是好看。
- D. 煞是皎洁的月光，倒映在好看湖面上。

华仁中学新生入学编班考试
英文科考题范例

1. I went shopping and bought _____ umbrella, _____ briefcase and _____ leather purse.
A. a, a, a B. an, a, a C. an, a, the D. the, the, a
2. James always _____ the drum very well.
A. play B. plays C. had played D. playing
3. Everybody _____ quietly in the class now.
A. reads B. are reading C. is reading D. will read
4. Please let Ramli and _____ go with _____ to the concert.
A. us, she B. me, them C. I, they D. her, he
5. Mary had _____ fried rice and _____ ice cream for lunch.
A. --, an B. a, the C. the, a D. a, __
6. The meeting _____ in half an hour's time. Please be patient.
A. start B. is starting C. started D. will start
7. The army officers lined _____ smartly to wait for the general's arrival.
A. up B. down C. over D. in
8. Pay attention to your work _____ you will not make mistakes.
A. though B. unless C. so that D. because
9. Listen! The manager _____ the careless clerk.
A. are telling off B. told off C. was telling off D. is telling off
10. Tom _____ with relief when he finally completed his science project.
A. sighed B. was sighing C. will sigh D. sighs
11. Choose the right sentence which has the correct *antonyms* of the words in bold.

It is **dangerous** to swim in **deep** water.

- A. It is unsafe to swim in hollow water.
B. It is heavy to swim in soft water.
C. It is safe to swim in shallow water.
D. It is careful to swim in narrow water.

Example : Andy cried because he fell down. → Why did Andy cry?

12. Greg came home at noon yesterday due to a high fever.
- A. When Greg came home due to a high fever?
 - B. Why did Greg come home at noon yesterday?
 - C. How did Greg know he had a high fever?
 - D. What was Greg doing at noon yesterday?
13. The girl is notorious for angering people with her bad behaviour.
- A. What is the girl notorious for?
 - B. When is the girl angering people?
 - C. Who has angered the girl?
 - D. How does the girl react when people anger her?

Example : play... Sally... can...violin...well...very... → Sally can play violin very well.

14. to...exercise...and...keep...us...helps...become...fit...healthier
- A. Us exercise and helps keep fit to become healthier.
 - B. To become healthier and keep fit exercise helps us.
 - C. Exercise helps us to keep fit and become healthier.
 - D. To keep fit exercise helps us and become healthier.
15. last...Saturday...his...Thomas...friends...a...house...all...at...his...barbecue...invited...to
- A. All his Thomas friends invited to a barbecue at his house last Saturday.
 - B. Thomas invited all his friends to a barbecue at his house last Saturday.
 - C. Last Saturday Thomas all his friends invited to a barbecue at his house.
 - D. All his friends invited Thomas to a barbecue at his house last Saturday.

华仁中学新生入学编班考试

数学科考题范例

- 1) 在 402098700 这个数中，“2”是在 _____ 位上，万位上的数字则是 _____。
- A. 十万；8 B. 十万；9 C. 百万；8 D. 百万；9
- 2) 503504读作_____。
- A. 五十万三千五百四十 B. 五万三千五百四十
C. 五十万三千五百零四 D. 五万零三千五百零四
- 3) $0.3 \times 0.2 + 1\frac{1}{2} \times 4 =$ _____。
- A. 6.06 B. 6.60 C. 2.06 D. 2.60
- 4) 计算 $45 + [210 \div (35 \times 2)]$ 。
- A. 15 B. 48 C. 57 D. 75
- 5) $\square \times 2 - 25 = 115$ ， \square 应填上什么数字？
- A. 45 B. 180 C. 70 D. 280
- 6) $54 _ 36 _ 3 = 42$ 中， $_$ 应填入什么运算符号？
- A. +, - B. -, \times C. \times , \div D. -, \div
- 7) $175\% \times 80 =$ _____ 。
- A. 140 B. 1400 C. 14000 D. 140000
- 8) 某人以 RM 120 购入一物品，售出后获利 25%，求其盈利。
- A. RM 30 B. RM 90 C. RM 120 D. RM 150
- 9) 半打果汁的总容量为1.95升。货架上有 37 盒果汁，以升为单位，37 盒果汁的总容量是多少？
- A. 6.0125 B. 6.125 C. 12.025 D. 12.25

10) 请问 2024 年的 2 月份共有多少分钟?

- A. 40320 分钟 B. 41760 分钟 C. 43200 分钟 D. 108000 分钟

11) $8\text{km } 400\text{m} - 3.45\text{km} = \underline{\hspace{1cm}}\text{km}\underline{\hspace{1cm}}\text{m}$

- A. $4\text{km } 95\text{m}$ B. $4\text{km } 950\text{m}$ C. $5\text{km } 250\text{m}$ D. $5\text{km } 385\text{m}$

12) 某学生五次数学小测验的平均分数为 75 分，在加入第六次小测验后，平均分为 76 分。问该学生在第六次小测验的分数是多少?

- A. 81 B. 76 C. 75.5 D. 70

13) 图 (2) 所示为一组合图形， $PQRS$ 是一边长为 5 cm 的正方形，

$RV = VS$ 。 ΔWVU 是一等腰三角形，

$WV = WU = 6\text{cm}$ ， $STUV$ 则是一长方形，

ST 的长度为 PS 的 3 倍，求此图形的周长。

- A. 47 cm B. 52 cm
C. 62 cm D. 67 cm

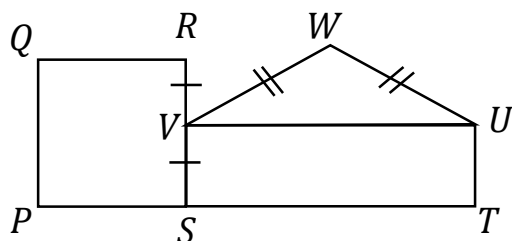


图 (2)

14) 某快递公司收到三样邮寄包裹，其重量如下：

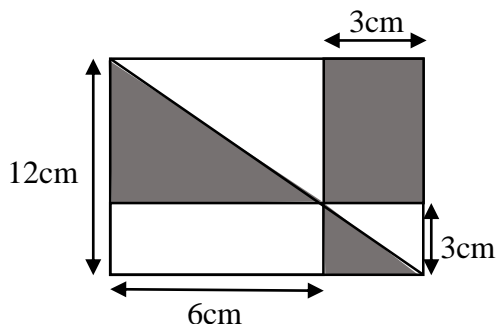
包裹	重量
A	5.27 kg
B	$\frac{3}{4}$ kg
C	比 A 轻了 2 g

求这三个包裹的总重量。

- A. 11.288 kg B. 11.27 kg C. 10.595 kg D. 10.613 kg

15) 求右图中涂黑部分的面积。

- A. 54cm^2 B. 58.5cm^2
C. 45cm^2 D. 49.5cm^2



华仁中学新生入学编班考试
国文科考题范例

Pilih jawapan yang paling sesuai.

1. “Bilakah _____ akan berangkat ke luar negara?” tanya Fairuz kepada kawannya.
A. saya B. hamba C. awak D. beta
2. Pertandingan itu telah ditunda ke minggu hadapan, _____?
A. berapa B. bagaimana C. siapa D. mengapa
3. _____, sakitnya perutku!
A. Aduh B. Cis C. Wah D. Nah
4. Peserta bengkel penulisan itu dibahagikan _____ tiga kumpulan.
A. di B. kepada C. dengan D. akan
5. Murid-murid sangat takut akan Cikgu Ling kerana beliau _____.
A. riuh macam pasar B. garang macam harimau
C. pedas macam cili D. bebas macam burung
6. Jayson membeli se _____ surat khabar di Kedai Buku Bestari.
A. pucuk B. keping C. sikat D. naskhah
7. Ai Ling sedang _____ nasi manakala ibu sedang menggoreng sayur.
A. menjerang B. mengukus C. menanak D. merebus
8. Ahmad menunggang basikal dengan berhati-hati _____ jalan itu sangat licin.
A. tetapi B. bahawa C. supaya D. kerana
9. Beberapa orang _____ yang baru sampai ke tapak pesta itu terpaksa berpayung kerana hujan lebat.
A. kunjungan B. pengunjung C. mengunjungi D. kunjungi
- 10 _____ ialah sejenis reptilia yang dapat hidup di dalam air dan di darat.
A. Jejentik B. Tetikus C. Kekura D. Dedaun
11. Pilih **Ayat Pasif** yang betul untuk ayat di bawah:

Kami telah menghabiskan kuih di atas meja.

- A. Kuih di atas meja telah dihabiskan oleh kami.
- B. Kuih di atas meja telah kami habiskan.
- C. Kuih dihabiskan oleh kami di atas meja.
- D. Kuih di atas meja kami telah habiskan.

12. Kereta itu bergerak dengan *laju*.
Pilih perkataan **sinonim** bagi perkataan *laju*.
- A. lambat B. lemah C. pantas D. tinggi
13. Laila suka makan keropok udang bercecahkan_____.
- A. sos cili B. cili-cili C. cili sos-sos D. cili sos

Baca petikan di bawah, kemudian pilih jawapan yang paling tepat bagi soalan-soalan yang berikutnya.

Kesihatan sangat penting kepada kita. Pelbagai cara boleh diambil untuk menjaga kesihatan diri.

Antara cara menjaga kesihatan diri adalah dengan bersenam. Kita haruslah bersenam sekurang-kurangnya tiga kali seminggu. Aktiviti bersenam membantu kita mengeluarkan peluh. Dengan ini, toksik dalam badan kita akan dikeluarkan.

Selain itu, kita perlulah makan makanan seimbang. Makanan seimbang penting untuk kesihatan badan kita. Kita perlu makan banyak sayur dan buah untuk tubuh badan kita. Makanan yang berlemak, bergaram dan terlalu manis perlu kita elakkan kerana boleh menjejaskan kesihatan badan.

Seterusnya, kita perlulah menjaga kebersihan diri. Kita hendaklah menggosok gigi sekurang-kurangnya dua kali sehari untuk menghilangkan kuman di dalam mulut. Kita juga perlu mandi dan membersihkan badan dengan sabun untuk membuang kotoran pada badan kita.

Kesimpulannya, kita perlu sentiasa menjaga kesihatan diri agar tidak mudah dijangkiti oleh sebarang penyakit.

14. Mengapakah kita perlu bersenam?
- A. badan kelihatan lebih bersih
B. menjejaskan kesihatan badan
C. membuang kotoran pada badan kita
D. toksik dalam badan kita akan dikeluarkan
15. Contoh makanan yang perlu dimakan dengan banyak ialah...
- A. makanan manis
B. buah-buahan
C. makanan bergaram
D. makanan berlemak

华仁中学新生入学编班考试
科学科考题范例

1. 排泄的主要目的是：
A 把死细胞或毛发排出体外。
B 把体内的代谢废物排出体外。
C 把消化道无法消化的食物排出体外。
D 把水分通过排汗排出体外以调节体温。

2. 图 1 所示，温度计不可以碰触烧杯的主要原因是：
A 避免损坏温度计
B 避免影响实验结果
C 避免影响液体的性质
D 避免影响煤油灯的燃烧

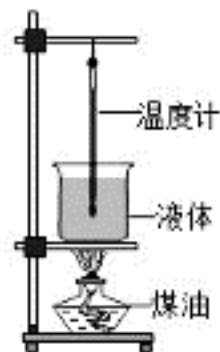


图 1

3. 图 2 所示为人类女性内生殖器官。哪一个部位产生卵子？

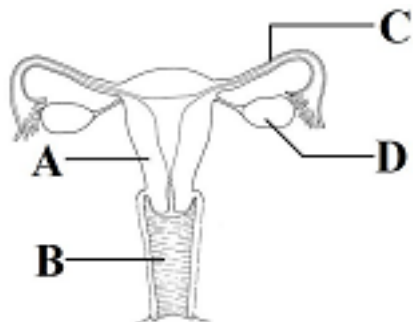


图 2

4. 在脊椎动物中，X 有毛发且胎生，Y 的皮肤潮湿且卵生，Z 用肺呼吸且身体表面有鳞甲覆盖，则 X，Y，Z 最可能是：
A X：老虎，Y：树蛙，Z：海龟
B X：猴子，Y：海豚，Z：鳄鱼
C X：企鹅，Y：河马，Z：鲸鱼
D X：袋鼠，Y：泥鳅，Z：鲤鱼

5. 图 3 所示，从水面上看水中的石头时，由于光的折射，石头看起来的位置在何处？

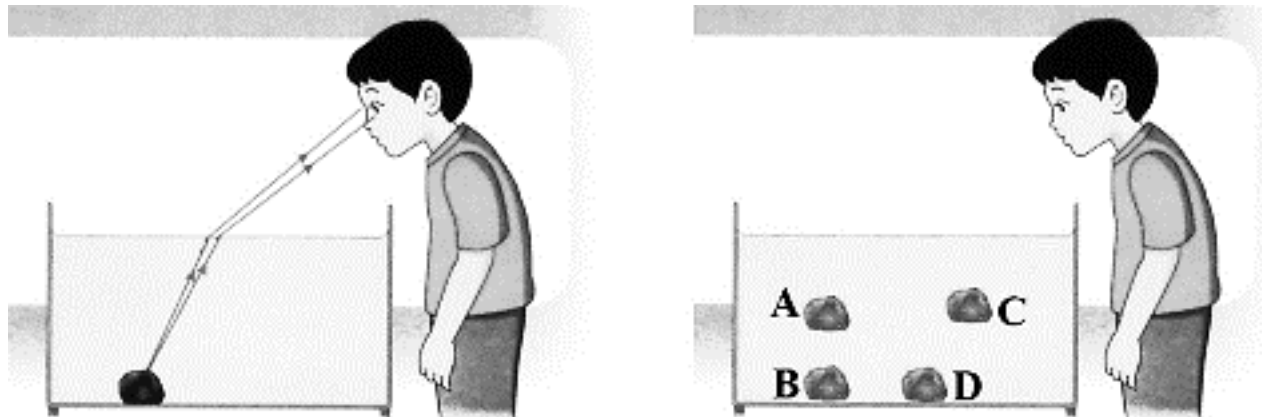


图 3

6. 关于能量的转换, 我们从食物中获取 P 后, 在体内转换成 Q 和 R, 使我们可以进行各种活动。P, Q, R 依次为:

- A P: 热能, Q: 化学能, R: 动能
- B P: 电能, Q: 势能, R: 动能
- C P: 化学能, Q: 动能, R: 热能
- D P: 势能, Q: 电能, R: 化学能

7. 制作一般用的雨伞的材料主要源自:

- A 石油和动物
- B 动物和植物
- C 岩石和植物
- D 石油和岩石

8. 地球如何自转?

- A 绕着地轴由东向西转动
- B 绕着地轴由西向东转动
- C 绕着太阳由东向西转动
- D 绕着太阳由西向东转动

9. 图 4 所示为人的某个器官, 其主要功能是:

- A 形成血液
- B 输送血液至全身
- C 把血液推送到全身
- D 氧气和二氧化碳进行交换的场所



图 4

10. 把凹陷的兵乓球放入热水后, 兵乓球就恢复原状了, 原因是:

- A 兵乓球里的空气收缩了
- B 兵乓球里的空气膨胀了
- C 兵乓球里的空气变多了
- D 兵乓球里的空气变少了

11. 图 5 所示, 用量筒测量的时候, 哪一个读数方式是正确的?

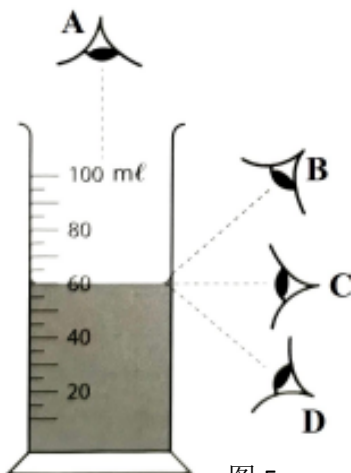



图 5


12. 以下哪一些机械使用了滑轮？



I
A I 和 III



II
B II 和 IV



III
C I 和 II



IV
D III 和 IV

13. 图 6 所示为人类神经系统的运作过程，X 的功能是：

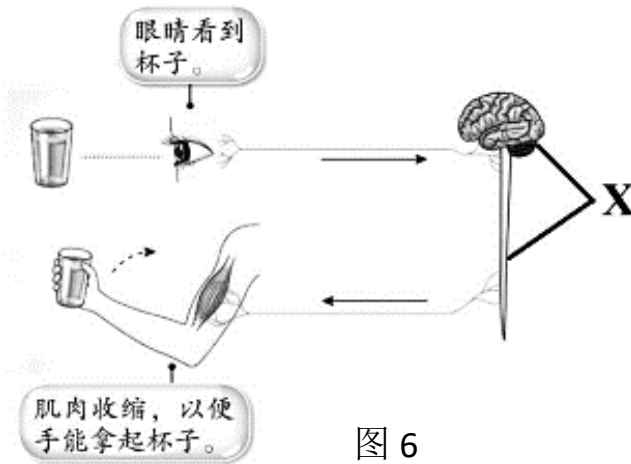


图 6

- A 传递眼睛所看到的信息
- B 传递有关反应的信息到手部的肌肉
- C 吸收眼睛所见到的光线并进行分析
- D 分析信息，并发出有关反应的信息

下图为四位小朋友针对橡皮筋动力船速度的讨论，据此，回答第 14 和 15 题。



14. 为了解决大家的疑惑，小朋友们想做一个实验，他们应该针对这个实验提出怎么样的问题？
- A 鸭子是不是比橡皮筋动力船移动得更快。
 - B 橡皮筋动力船安装电子马达移动得更快。
 - C 橡皮筋动力船要怎么样才能移动得又快又远。
 - D 螺旋桨的大小是否会影响橡皮筋动力船的速度。
15. 提出具体的问题之后，接着要做的是：
- A 控制变数
 - B 设计实验
 - C 诠释资料
 - D 作出假设

答案

华文科

1	2	3	4	5	6	7	8	9	10	11	12	13	14	15
C	B	A	D	B	A	C	A	C	C	D	B	D	C	A

英文科

1	2	3	4	5	6	7	8	9	10	11	12	13	14	15
B	B	C	B	A	D	A	C	D	A	C	B	A	C	B

数学科

1	2	3	4	5	6	7	8	9	10	11	12	13	14	15
D	C	A	B	C	D	A	A	C	B	B	A	A	A	B

国文科

1	2	3	4	5	6	7	8	9	10	11	12	13	14	15
C	D	A	B	B	D	C	D	B	C	B	C	A	D	B

科学科

1	2	3	4	5	6	7	8	9	10	11	12	13	14	15
B	B	D	A	A	C	D	B	C	B	C	A	D	D	D